

Unidad 7.3: Expresiones Algebraicas
Matemáticas
Tarea de desempeño – Las Vacaciones

Las Vacaciones

En esta tarea de desempeño los estudiantes:
Analizan la relación entre gráficas y algebra

Información sobre como los estudiantes van a pagar por sus vacaciones de verano:

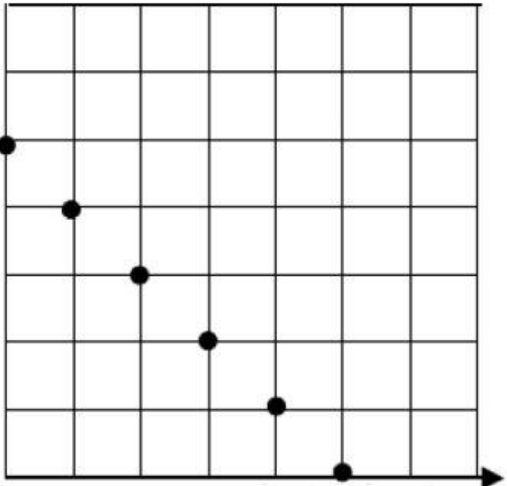
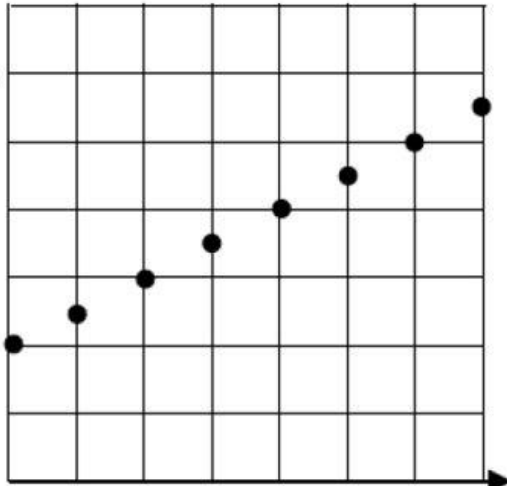
Carla: Su mama le dio \$100 en enero y Carla ahorro 25 dólares cada mes desde febrero

Felipe: Felipe tiene \$150 en su alcancía desde enero

Susana: Susana reservo un plazo para una excursión con una agencia de viajes en Enero. En este momento tuvo \$250 en su alcancía. Desde febrero estuvo pagando \$50 cada mes a la agencia de viajes

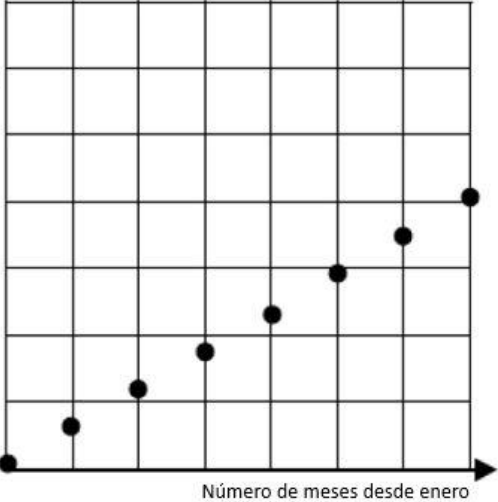
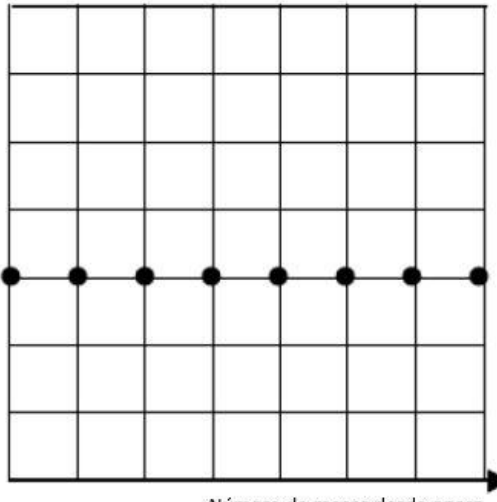
Ben: Desde enero Ben estuvo guardando \$30 cada mes.

Debajo se encuentran unas graficas que representan cada una de estas situaciones, para cada gráfica con la situación y explica tu razonamiento.

<p>Cantidad de dinero en dólares que tiene</p>  <p>Número de meses desde enero</p>	<p>Cantidad de dinero en dólares que tiene</p>  <p>Número de meses desde enero</p>
<p>Nombre de estudiante: Razonamiento:</p>	<p>Nombre de estudiante: Razonamiento:</p>



Unidad 7.3: Expresiones Algebraicas
Matemáticas
Tarea de desempeño – Las Vacaciones

<p>Cantidad de dinero en dólares que tiene</p>  <p>Número de meses desde enero</p>	<p>Cantidad de dinero en dólares que tiene</p>  <p>Número de meses desde enero</p>
<p>Nombre de estudiante: Razonamiento:</p>	<p>Nombre de estudiante: Razonamiento:</p>